


RÄTSELSPASS

mit der Zooschule

Willkommen im Tierpark Cottbus! Wir freuen uns, dich heute ganz unter dem Motto „Schau mal genauer hin“ auf deinem **Rundgang durch den Tierpark** zu begleiten. Tipp: Beachte auch die Tiere zwischen den Stationen, das wird dir später helfen.



ab 3. Klasse



Station 1: Känguru

Wie schwer ist ein neugeborenes Jungtier?

Tipp: Die Lösung findest du auf unseren Schildern.



5 g




Hühner-Ei = 50 g



2 Gummibärchen = 0,5 g



Fußball = 500 g



Katze = 5 kg

Übrigens: Die richtige Lösung verrät nicht nur das Gewicht, sondern auch die Größe des neugeborenen Kängurus. Es kommt nackt und blind zur Welt und schafft es trotzdem nach der Geburt selbstständig in den Beutel der Mutter zu krabbeln.



Station 2: Trampeltiere und Hissarschafe

Welche Aussagen sind richtig?

- Unsere Hissarschafe sind hornlos
- Trampeltiere haben einen Höcker
- Trampeltiere haben zwei Höcker
- Die Höcker sind Fettspeicher
- Hissarschafe haben ihren Fettspeicher am Po (Steiß)

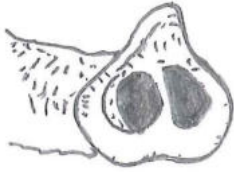
Station 3: Elefant

Unsere Asiatischen Elefanten KARLA und SUNDALI sind nicht zu übersehen, aber findest du auch alle Funktionen des Rüssels heraus?

Tipp: Suche im „Buchstabengitter“ von links nach rechts und oben nach unten. Das Meiste siehst du auch beim Beobachten der Tiere.

A	F	F	R	S	S	E	N	
B	G	U	M	S	K	A	B	
W	R	V	C	H	E	N	T	
E	E	M	I	A	E	L	K	A
H	I	W	F	T	S	G	T	S
R	F	X	K	M	L	E	F	T
E	E	U	I	E	T	A	O	E
N	N	T	Z	N	I	M	A	N





G _ _ _ _ _

A _ _ _ _

T _ _ _ _ _

A _ _ _ _ _

F _ _ _ _ _

R _ _ _ _ _

Station 4: Sumatratiger


Tiger sehen alle gleich aus – oder doch nicht?

Zwei Tigerbilder sind identisch. Findest du sie?



Station 5: China-Leopard

Welches Muster gehört zum China-Leoparden?



Station 6: Sattelstorch

Im Tierpark zeigen wir verschiedene Storcharten.
Welcher ist der Sattelstorch?



Bonusaufgabe: Beim Rundgang entdeckst du weitere Storcharten.
Schreibe deren Namen bitte neben das passende Bild.

Für zwischendurch: Sei ein Storch, stell dich auf ein Bein und stütze deinen Fuß auf dem anderen Knie ab.
Wie lange schaffst du es?

_____ Sekunden

Spitze ist es, wenn du über 50 Sekunden schaffst! Ein Storch kann ohne Probleme in der Position schlafen.



Station 7: Humboldt-Pinguin

Wie unterscheiden wir unsere Pinguine voneinander? Schau mal genauer hin!

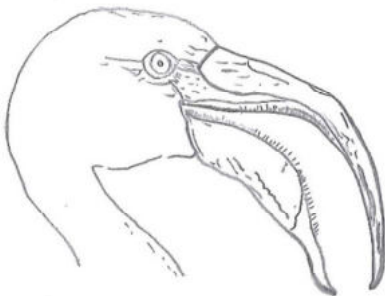
_____ und _____

Trainiere dein Forscherauge: Verbinde die oberen Pinguine mit den Spiegelbildern unten.



Station 8: Flamingos

Suche die Flamingos! Biege dafür hinter dem Vogelhaus rechts ab.



Verschafe dir einen Überblick.
Wie viele Flamingos zählst du?

